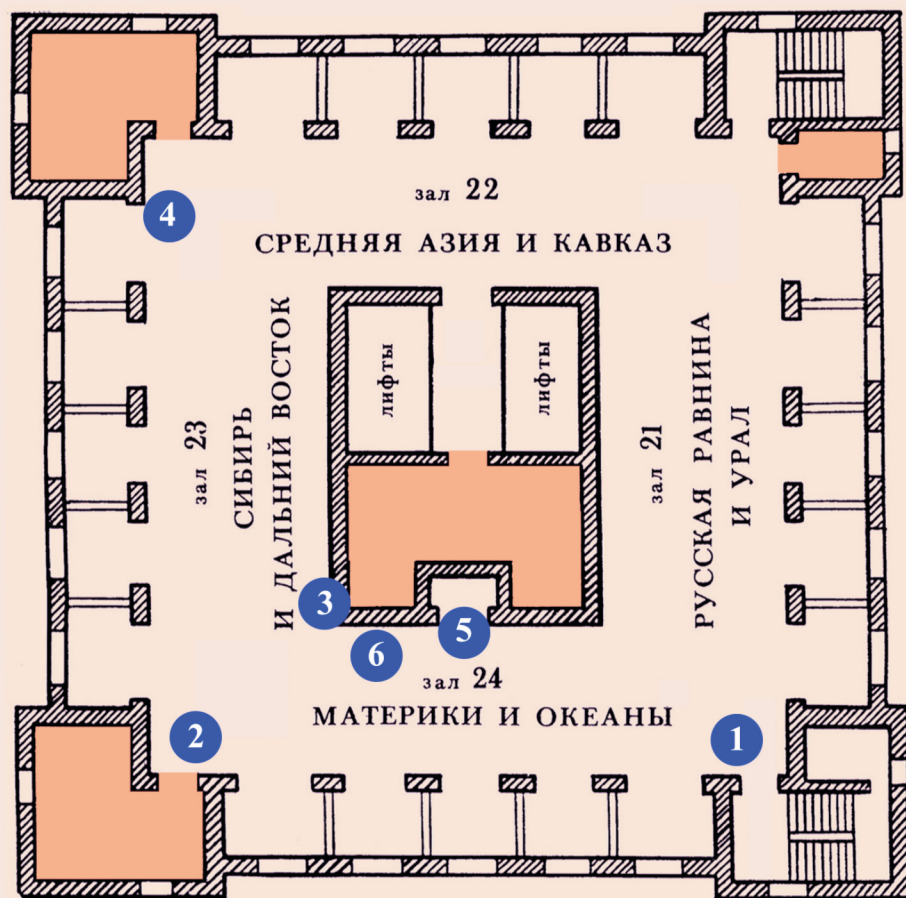


Отдел “Физико-географические области России и мира”  
(24 этаж Музея землеведения МГУ)



Напишите, какое географическое открытие Вам запомнилось?

---



---

Разработка: Лаптевой Е.М., Таранец И.П., Поповой Л.В.



МУЗЕЙ ЗЕМЛЕВЕДЕНИЯ МГУ имени М.В. Ломоносова  
Проект “Университетские субботы”

Имена исследователей на карте мира  
1 вариант

Ваше ФИО: \_\_\_\_\_

Выполняйте задания, следуя по пунктам, обозначенным на плане 24 этажа. Цифрами обозначены картины, портреты и скульптуры исследователей.

1 Картина “\_\_\_\_\_”,  
художник В.В. Крайнев.

1. Назовите парусно-гребные суда, на которых поморы плавали в Северном Ледовитом океане:

- а) галеоны
- б) каноэ
- в) кочи
- г) ледоколы

2. Задания на карте.

2 Картина “\_\_\_\_\_”,  
художник А.Н. Васильев.

1. Этого учёного называют “Великим помором”.  
Напишите его фамилию, имя и отчество:

--	--	--	--	--	--	--	--	--	--

--	--	--	--	--

--	--	--	--	--	--	--	--	--	--



2. Задания на карте.



МУЗЕЙ ЗЕМЛЕВЕДЕНИЯ МГУ имени М.В. Ломоносова  
Проект "Университетские субботы"

## Имена исследователей на карте мира 1 вариант

Ваше ФИО: \_\_\_\_\_

- 1 Подпишите на карте географический объект, открытый Семёном Дежнёвым в 1648 году и названный его именем.

● Координаты:  $66^{\circ}05'$  с.ш.  $169^{\circ}40'$  з.д.

Назовите архипелаг, где расположен залив Дежнёва  
(координаты:  $80^{\circ}40'$  с.ш.  $47^{\circ}50'$  в.д.)



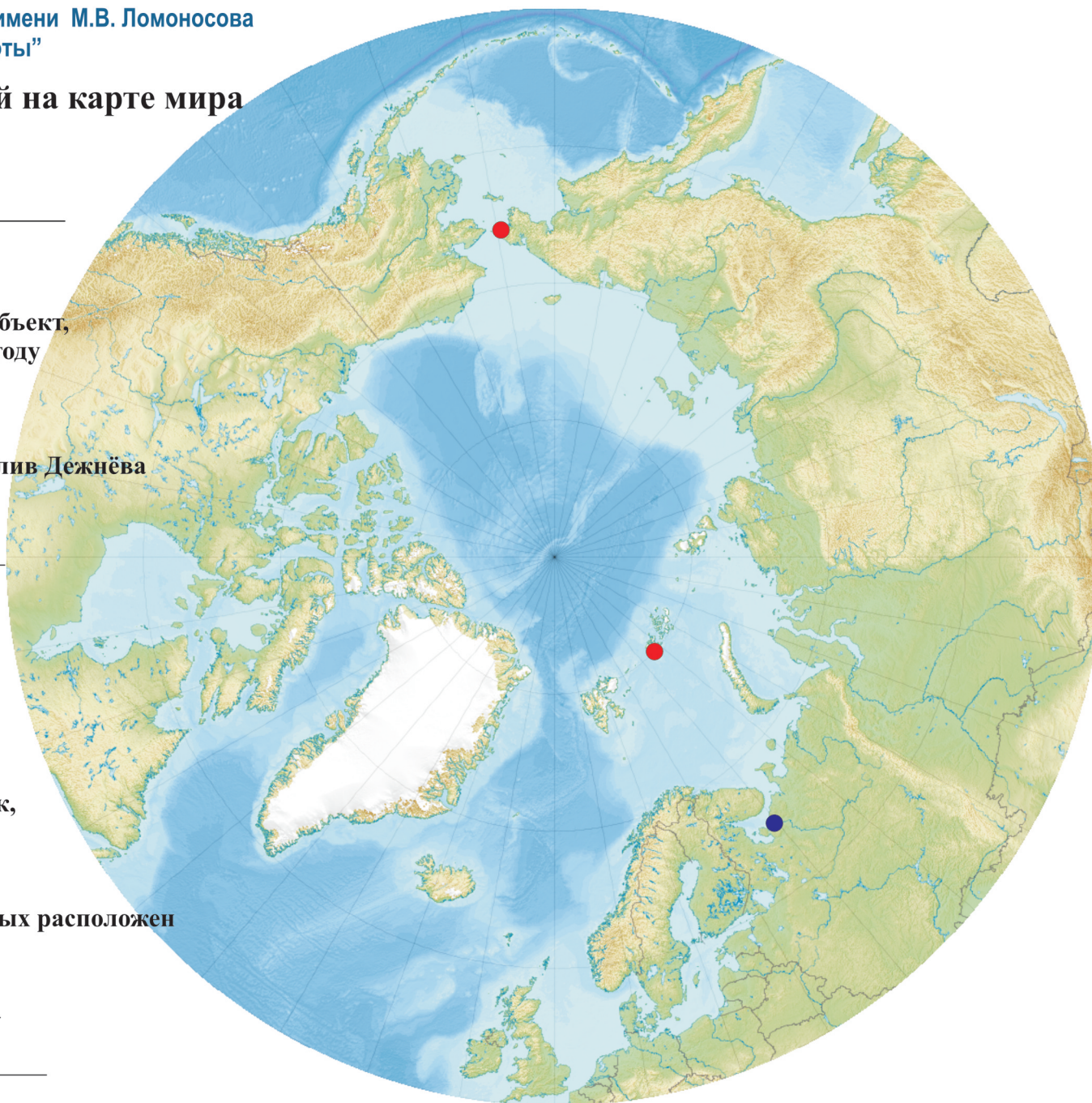
- 2 Подпишите на карте город Архангельск, связанный с именем Ломоносова.

● Координаты:  $66^{\circ}33'$  с.ш.  $40^{\circ}32'$  в.д.

Назовите море и реку, на берегах которых расположен Архангельск.

море \_\_\_\_\_

река \_\_\_\_\_





**3** Скульптура географа, геолога, исследователя Восточной Сибири \_\_\_\_\_ (1845-1892), скульптор А.В. Пекарев.

1. Каким образом учёный наблюдал за колебаниями озера Байкал?

- а) фотографировал озеро
- б) делал засечки на береговых скалах у воды
- в) измерял глубину озера эхолотом
- г) изучал космические снимки озера

2. Задания на карте.

**4** Скульптура российского гидробиолога \_\_\_\_\_ (1889-1944), скульптор В. С. Манашкин.

1. Напишите название озера, где работал этот исследователь:

2. Напишите название крупного млекопитающего - обитателя этого озера:



3. Задание на карте.

**5** Портрет полярного исследователя - первооткрывателя Южного полюса Земли \_\_\_\_\_ (над глобусом в нише).

1. Напишите название корабля, на котором этот исследователь впервые прошёл морским путём через проливы Канадского архипелага (Северо-западный проход) в 1903-1905 годах.

Зверобойная шхуна

2. Задания на карте.

**6** Портрет российского мореплавателя, адмирала, начальника Первой русской антарктической экспедиции \_\_\_\_\_

(кассеты слева от стенда).

1. Подпишите названия парусных военных кораблей (шлюпов), на которых была совершена Первая русская антарктическая экспедиция в 1819-1821 годах.



2. Задания на карте.



МУЗЕЙ ЗЕМЛЕВЕДЕНИЯ МГУ имени М.В. Ломоносова  
Проект "Университетские субботы"

## Имена исследователей на карте мира 1 вариант

Ваше ФИО: \_\_\_\_\_



**3** Подпишите на карте горную систему в Якутии и Магаданской области, самой высокой точкой которой является гора Победа (координаты  $65^{\circ} 10'$  с.ш.,  $146^{\circ} 0'$  в.д.)

● Подпишите море, куда впадает река Индигирка

**4** Подпишите на карте город, где находится крупный Лимнологический институт, в котором проводятся международные Верещагинские научные конференции.

● Подпишите единственную реку, вытекающую из глубочайшего озера нашей планеты.

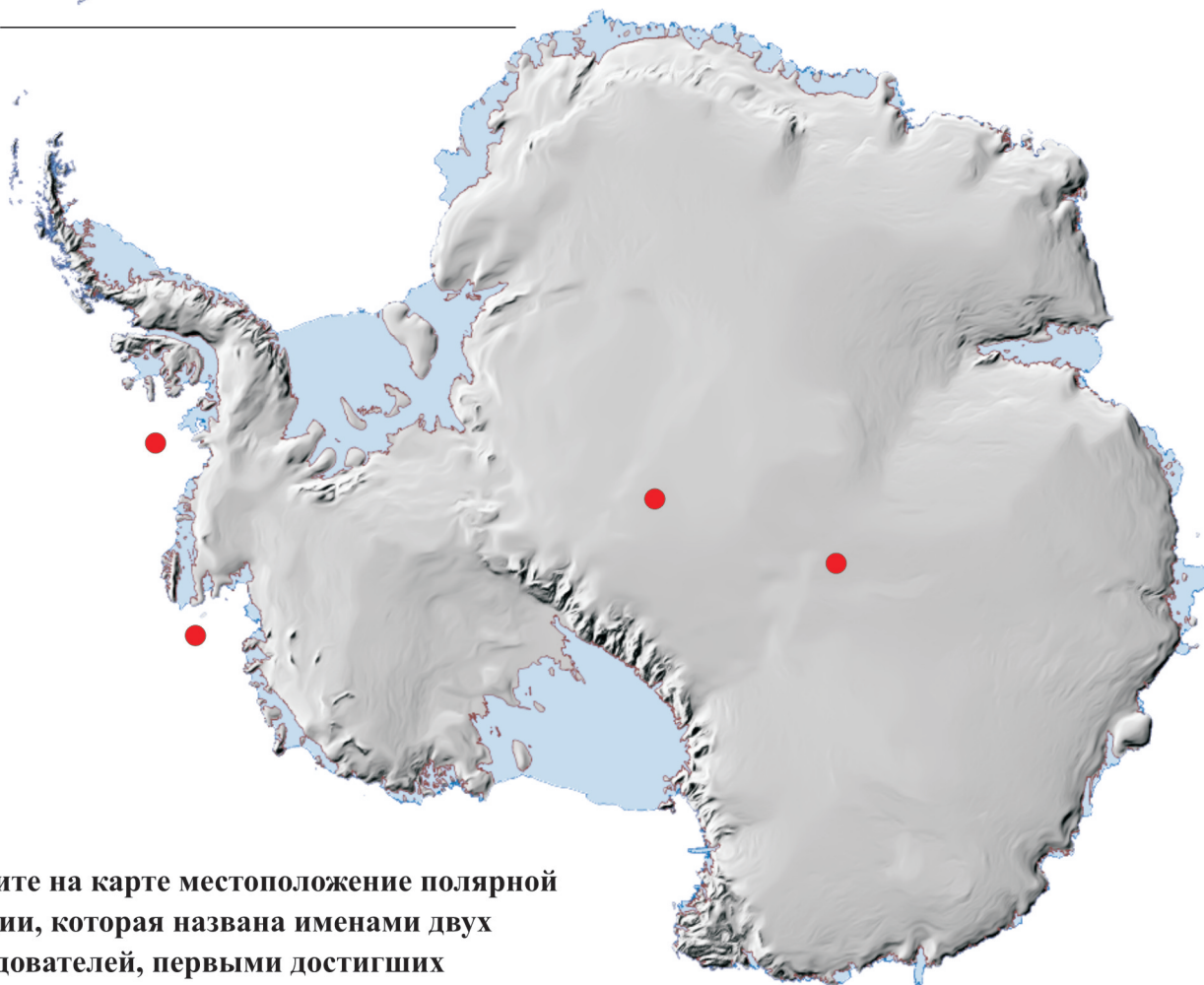




МУЗЕЙ ЗЕМЛЕВЕДЕНИЯ МГУ имени М.В. Ломоносова  
Проект "Университетские субботы"

## Имена исследователей на карте мира 1 вариант

Ваше ФИО: \_\_\_\_\_



- 5 ● Укажите на карте местоположение полярной станции, которая названа именами двух исследователей, первыми достигших Южного полюса Земли (координаты:  $90^{\circ} 00'$  ю.ш.).

Подпишите название этой станции.

- 6 ● Подпишите на карте море, названное в честь первооткрывателя Антарктиды.

- Подпишите российскую антарктическую станцию, расположенную в полюсе холода Земли и названную в честь одного из кораблей антарктической экспедиции 1819 - 1821 годов.

Координаты:  $78^{\circ} 28'$  ю.ш.,  $106^{\circ} 50'$  в.д.

НАПИШИТЕ НАЗВАНИЕ МАТЕРИКА

--	--	--	--	--	--	--	--	--	--

- Подпишите на карте море у западных берегов Антарктиды, названное в честь покорителя южного полюса.